

Шифр Ц506

Муниципальное образование «Гурьевский муниципальный округ»
ВСЕРОССИЙСКАЯ ОЛИМПИАДА ШКОЛЬНИКОВ ПО ИСТОРИИ
 (школьный этап)

2023 – 2024 учебный год

5 КЛАСС

Время выполнения работы – 60 минут

Максимальный балл – 100

Задание № 1. Выполните тест. Выберите один вариант ответа из 4-х предложенных. Не забудьте перенести ответы в бланк ответов! (10 баллов)

- Поиском и исследованием вещественных свидетельств прошлого человечества занимается наука.
 1) этнография 2) археология 3) хронология 4) этнология
- Зарождение религии и искусства произошло в период.
 1) мезолита 2) энеолита 3) палеолита 4) неолита
- В ледниковый период основным занятием людей являлось.
 1) земледелие 2) охота 3) собирательство 4) рыболовство
- Первыми орудиями труда древнейших людей были.
 1) рубило, палка-копалка 2) лук и стрелы 3) гарпун, топор 4) ткацкий станок, плуг
- Человек современного вида появился на земле около
 1) 60 тысяч лет назад 2) 40 тысяч лет назад 3) 20 тысяч лет назад 4) 10 тысяч лет назад

Задание № 2. Выберите из перечисленного признаки, свидетельствовавшие об окончании истории первобытности. Запишите в бланк ответов номера признаков (6 баллов).

- Освоение металлов
- Возникновение письменности
- Появление земледелия и скотоводства
- Основание и рост городов
- Появление религиозных верований
- Появление первых государств

Задание № 3. По какому принципу образованы ряды (9 баллов).

- палка-копалка, гарпун, топор *1 орудия труда +*
- родовая община, стадо, племя *2 поселения*
- охота, собирательство, рыбная ловля *3 виды еды*


Задание № 4. Вычеркните лишнее слово и объясните свой выбор (6 баллов)

- Палка-копалка, гарпун, идол, топор
- Мамонт, пещерный медведь, шерстистый носорог, лошадь


Задание № 5. Расположите изобретения первобытного человека в порядке их появления. Запишите получившуюся последовательность букв в таблицу в бланке ответов (12 баллов)
 А) лук и стрелы Б) каменное рубило В) медный топор Г) деревянная мотыга

Задание № 6. Установи соответствие между событиями и датами и запиши ответ в таблицу в бланке ответов (12баллов)


СОБЫТИЕ		ДАТА	
1	В каком году область получила название Калининградской	А	1961 г.
2	Когда была принята Конституция Российской Федерации	Б	2014 г.
3	В каком году Ю. А. Гагарин полетел в космос	В	1993 г.



4



5



6

БЛАНК ОТВЕТОВ

ШИФР	ИСТ-5-
------	--------

Задание № 1. Выполните тест. (10 баллов).

1	2	3	4	5
2	3	2	1	2

85

Задание № 2. Укажите номера признаков (6 баллов). Ответ: 1, 3, 5

Задание № 3. (9 баллов).

- 1) свободный труд + 35
- 2) работорговля -
- 3) свободный труд -

Задание № 4. (6 баллов).

- 1) исход это не свободный труд это работорговля 35
- 2) исход это не свободный труд это работорговля 35

Задание № 5. (12 баллов).

1	2	3	4
Б +	А +	Г +	В +

Задание № 6. (12 баллов).

1	2	3	4
Г +	В +	А +	Б +

Задание № 7. (8 баллов)

1 миллион, рабовладельческие, рабовладельческие, рабовладельческие 45

Задание № 8. (до 15 баллов)

- 1) Нет - 25
- 2) они возникли в результате войны -
- 3) средневековые и современные войны 45
- 4) свободная торговля в средневековых войнах 35
- 5) свободная торговля в средневековых войнах 35

Задание № 9. (16 баллов).

- 1) 23 + 12 = 35 лет правили царь 25
- 2) 652 до н.э. были приняты законы царя 65 + 40 = 105 и римские 58
- 3) 12023 - 1 = 2023 - 2 = 2021 + 80 = 3002 лет для приехать в землю 35
- 4) 453 году основано государство Рим от рабовладельческих войн 35
- 5) правильно 1050 лет между постройкой первого и последнего перемычка 35

Задание № 10. (6 баллов).

1 б) 3

65

Таблица результатов:

Задание №	1	2	3	4	5	6	7	8	9	10	Всего
Мах балл	10	6	9	6	12	12	8	15	16	6	100
Баллы ученика	8	0	3	6	12	12	4	12	16	6	95

Подписи членов жюри:

Prof. Lyub. I. B.